

ВСЕРОССИЙСКАЯ ОЛИМПИАДА ШКОЛЬНИКОВ ПО ИСТОРИИ

1 часть

(75 баллов)

Выберите правильный ответ из числа предложенных.

1. В честь своей победы над кем Ярослав Мудрый возвел храм Святой Софии в Киеве? (1 балл)

- а) Поляками
- б) ☒ Печенегами
- в) Половцами
- г) Ромеями

2. Какое из перечисленных событий произошло в XIV веке? (1 балл)

- а) Убийство в орде Тверского князя Михаила Ярославича
- б) Мастер Андрей Чохов отлил из бронзы Царь-пушку
- в) ☒ Оселение Василия II сторонниками Дмитрия Шемяки
- г) Захват рыцарями Ливонского ордена Псковской земли

3. Укажите сочетание, в котором верно указаны мирный договор и правитель России, правивший в это время. (1 балл)

- а) Ништадский мир – Екатерина II
- б) Ям-Запольский мир – Иван III Великий
- в) Брестский мир – Александр Керенский
- г) Столбовский мир – Михаил Федорович
- д) ☒ Кючук-Кайнарджийский мир – Екатерина I

4. Бюстистка – вспомогательная историческая дисциплина. Что она изучает? (1 балл)

- а) Печати
- б) Ордена и медали
- в) ☒ Бумажные деньги
- г) Юридические акты

5. Расположите письменные памятники русской культуры и произведения русской литературы донетровского времени в хронологической последовательности их появления. Ответ дать в таблице (3 балла)

- а) Повесть о разорении Рязани Батыем
- б) Житие протопопа Аввакума
- в) Сказание о Мамасовом побойше
- г) Правда Ярославичей
- д) Хождение за три моря
- е) Слово о полку Игореве
- ж) Законщина

	1	2	3	4	5	6	7
Б		А	Г	В	Е	Д	Ж

6. Перед Вами правители России различных периодов истории и их «вторыеمولовинки» – жёны. Найдите верное соответствие. Ответ дать в таблице (3 балла)

1. Пётр III	А. Марфа Собакина
2. Борис Годунов	Б. Александра Фёдоровна
3. Николай II	В. Софья Ковалевская
4. Иван IV Грозный	Г. Екатерина Алексеевна
5. Владимир Ленин	Д. Мария Мнишек
6. Лжедмитрий I	Е. Мария Скуратова
	Ж. Надежда Крупская

итого: 74 балла. Структурова О.В.
 ТЕСТ.: 68 балла.
 ЭССЕ: 6 балла.
 Физ. переезд 1.11.

11-04

ВСЕРОССИЙСКАЯ ОЛИМПИАДА ШКОЛЬНИКОВ ПО ИСТОРИИ

1 часть

(75 баллов)

Выберите правильный ответ из числа предложенных.

1. В честь своей победы над кем Ярослав Мудрый возвел храм Святой Софии в Киеве? (1 балл)

- а) Поляками
 15 б) Печенегами
 в) Половцами
 г) Ромеями

2. Какое из перечисленных событий произошло в XIV веке? (1 балл)

- а) Убийство в орде Тверского князя Михаила Ярославича
 05 б) Мастер Андрей Чохов отлил из бронзы Царь-пушку
 в) Ослепление Василия II сторонниками Дмитрия Шемяки
 г) Захват рыцарями Ливонского ордена Псковской земли

3. Укажите сочетание, в котором верно указаны мирный договор и правитель России, правивший в это время. (1 балл)

- а) Ништадский мир – Екатерина II
 05 б) Ям-Запольский мир – Иван III Великий
 в) Брестский мир – Александр Керенский
 г) Столбовский мир – Михаил Фёдорович
 д) Кючук-Кайнарджийский мир – Екатерина I

4. Бонистика – вспомогательная историческая дисциплина. Что она изучает? (1 балл)

- а) Печати
 15 б) Ордена и медали
 в) Бумажные деньги
 г) Юридические акты

5. Расположите письменные памятники русской культуры и произведения русской литературы допетровского времени в хронологической последовательности их появления. Ответ дать в таблице (3 балла)

- а) Повесть о разорении Рязани Батыем
 б) Житие протопопа Аввакума
 в) Сказание о Мамаевом побоище
 г) Правда Ярославичей
 д) Хождение за три моря
 е) Слово о полку Игореве
 ж) Задонщина

05

1	2	3	4	5	6	7
б	а	г	в	д, а, в, г, б		

6. Перед Вами правители России различных периодов истории и их «вторые половинки» – жёны. Найдите верное соответствие. Ответ дать в таблице (3 балла)

1. Пётр III	А. Марфа Собакина
2. Борис Годунов	Б. Александра Фёдоровна
3. Николай II	В. Софья Ковалевская
4. Иван IV Грозный	Г. Екатерина Алексеевна
5. Владимир Ленин	Д. Мария Мнишек
6. Лжедмитрий I	Е. Мария Скуратова
	Ж. Надежда Крупская

28.

1	2	3	4	5	6
Г	В	Б	А	Ж	Р

7. Проанализируйте исторические термины. Дайте их точное и развёрнутое объяснение. Ответ впишите в правый столбец (10 баллов)

ТЕРМИН	ПРИМЕРНОЕ ОБЪЯСНЕНИЕ
1. ЦЕЛОВАЛЬНИК	Российский посол в Русском посольстве XV-XVII вв.
2. ПАРСУНА	Вид русской портретной живописи XVIII-XIX вв.
3. ИЗБРАННАЯ РАДА	Неофициальный совет при правителе государства
4. БОРТНИЧЕСТВО	Искусство плавания
5. ТОЛМАЧ	Устный переводчик

8. Если Вы согласны с утверждением, поставьте против соответствующего номера знак «да», если же Вы считаете утверждение неправильным – знак «нет». Ответ дать в таблице (5 баллов)

- 1) Аграрная реформа П.А. Столыпина предполагала принудительное изъятие земли у помещиков и безвозмездная раздача её крестьянам.
- 2) Мечник – чин княжеского двора, главной обязанностью считалась судебная; он должен был присутствовать, вместе с детским, при испытании железом и получал за это 5 кун.
- 3) Победа русских дружин на Куликовом поле завершила монголо-татарское иго на Руси, в частности в её северо-восточной части, где оно держалось дольше.
- 4) Тело Лжедмитрия II выкопали, сожгли и, смешав пепел с порохом, выстрелили из пушки в ту сторону, откуда он пришёл – в сторону Речи Посполитой.
- 5) Прославленный лётчик-штурмовик Муса Гайсинович Гареев, единственный в истории Башкортостана – дважды Герой Советского Союза.
- 6) Казачий атаман Ермак Тимофеевич, в качестве награды за участие в Ливонской войне, заслужил царскую привилегию в покорении Сибири.
- 7) Александровская колонна, установленная на Дворцовой площади Санкт-Петербурга, весит 600 тонн и стоит на пьедестале только за счёт собственной силы тяжести.
- 8) Фабрично-заводские комитеты возникли на предприятиях в первые дни Октябрьской революции 1917 г., с целью монополизации всей полноты власти под лозунгом «Власть фабзавкомам!».
- 9) Император Пётр II, сын царевича Алексея Петровича и немецкой принцессы Софии-Шарлотты, стал последним представителем рода Романовых по прямой мужской линии.
- 10) В ходе обороны Севастополя в 1941-1942 гг. упорная борьба развернулась за тактическую высоту «Мамаев курган».

68.

1	2	3	4	5	6	7	8	9	10
да	да	нет	да	да	да	да	да	да	нет
0	1	1	1	1	0	1	0	1	0

9. Внимательно прочитайте отрывки из письменного источника, относящегося к одному периоду истории России. Дайте чёткие и краткие ответы на вопросы. Ответы впишите в выделенные строки (8 баллов)

Текст.

I. «Вестники же побежали к боярину Борису с этой страшной вестью и, прибежав, сказали, что желание <его> исполнилось. Он же, услышав это, обрадовался, будто от истинного врага и супостата избавился, однако объял его сердце трепет и страх, и не ведал он, что же будет, ибо совершилось дело злое. И повелел он сказать царю и великому князю [___??_] ложно, а не истинно, будто брат его сам себя заколол во время детской игры. И, услышав это, царь стал скорбеть в великой печали об утрате брата своего, а более – о нелепой его смерти, ибо думал, будто вправду так <все> и совершилось, и, вздохнув из глубины своего сердца, пролил из очей своих обильные слезы и речи произнес, исполненные многотрудной жалости. И потом захотел он сам отправиться в путь и идти ко граду Угличу, чтобы увидеть своими глазами тело брата своего и похоронить его достойно, как то подобает».

II. «Тот же окаянный расстрига, услышав, что Борис умер, обрадовался весьма злохитрою своей душою и злоумышленным своим сердцем, что желание его наконец может сбыться. Воеводы же и воины все, что были посланы против него от царя Бориса, услышав о Борисовой смерти, и, считая его царским сыном, а еще рассудив про себя, что Борис сам себя лишил жизни из-за страха и стыда, все сдались ему в плен и покорились. Он же, окаянный, как невзнузданный конь, дерзко устремился к самому царствующему граду Москве, и никто ему не воспрепятствовал. И когда еще не дошел он до града Москвы, послал перед собой своих сторонников и повелел втайне Борисова сына и жену его позорной и жестокой смерти предать, – веревкой удавить, чтобы не случилась с ним какая-нибудь остановка и не стала укорять его совесть, если оставит их в живых. И так пришел он к царствующему граду Москве, и так же все, упав <на колени>, поклонились ему как истинному цареву сыну Дмитрию».

Вопросы:

А) Имя какого исторического лица пропущено в тексте № I?

Федор Иванович - сын Ивана Грозного

Б) В каком году произошло событие, приведенное в тексте № I?

1591 год

В) В каком году произошло событие, о котором говорится в тексте № II?

1605 год

Г) Как называется документ, из которого взяты отрывки текстов № I и № II?

Житие царевича Дмитрия Угличского

Д) Поясните, о каких именно деятелях и их статусе (должности) идет речь:

Боярин Борис – Борис Годунов, князь гродненский с 1570 по 1605

Окаянный расстрига – Григорий Ступников, дьявол царя Ивана Грозного

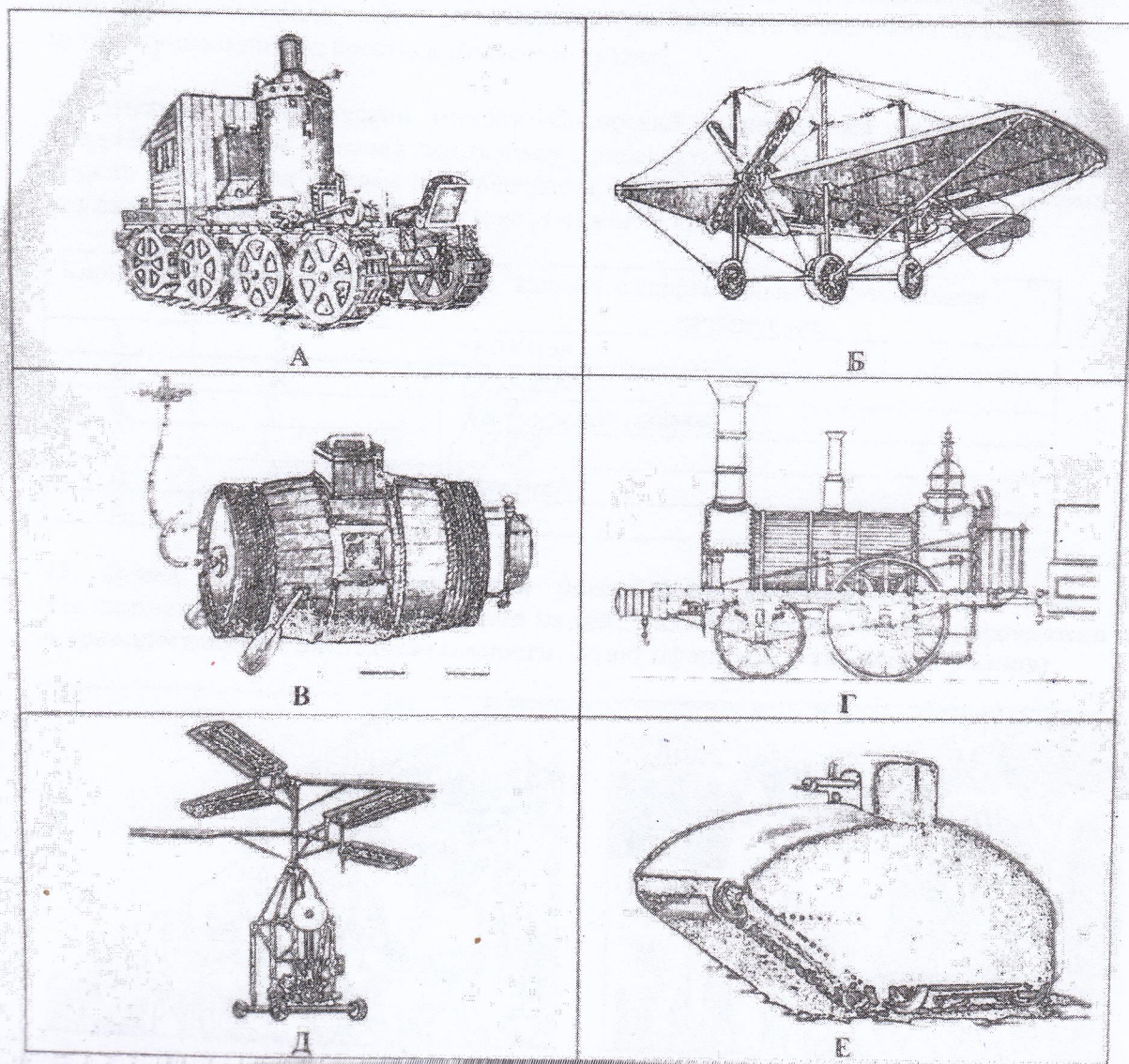
Борисова сына – Федор Борисович, цесаревич с 13.09 по 1.06 1605

Цареву сыну Дмитрию – Дмитрий Иванович, князь Фюминский, сын Ивана IV

10. Перед Вами фрагменты известных картин, в основу которых положены сцены насилия над людьми в разные периоды истории России. Назовите эти события, расположив картины в хронологической последовательности. Ответ оформить в таблице (8 баллов)

Последовательность	Буква	Событие или действие в отношении конкретного героя, изображённые на картине (без указания даты)
1	Б	Иван Грозный убивает своего сына Ивана
2	Б	Казнь Степана Разина
3	В	Стрельбное казнь
4	А	Казнь Вукашевича
5	А	Восстание декабристов
6	Ж	Покорение В. И. Ленина
7	Г	Восстание Зои Космодемьянской

108. 18
11. Рассмотрите изобретения российских конструкторов XVIII – XX вв., опередивших своё время. Прочитайте предложенные тексты, соотнесите их с иллюстрациями и дайте современное название техники. Ответ оформить в таблице (9 баллов)



1. «При движении по обычной дороге «Вездеход» перед обычным автомобилем не имеет никаких преимуществ, а имеет только недостатки. Из-за неминуемого проскальзывания ленты по барабану и невозможности поворотов. Комиссия находит, что проект конструктора Пороховщикова в его настоящем виде не заслуживает никакого внимания».

2. «Снаряд капитана 1-го ранга Можайского в настоящее время уже окончен в натуральную величину и будет приводится в движение с помощью двух паровых машин, на что им вложен в это дело капитал, превышающий сумму 200 тысяч руб. Испытание прибора окончилось неудачей, и механик, управлявший машиной, потерпел увечье».

3 «Сухопутный пароход, ими устроенный, ходит ныне в обе стороны по нарочно приготовленным на длине 853,5 метров чугунным колёсопроводам, изготовленных в опытным порядке на Нижнетагильском заводе. Пароход их неоднократно был в действии и показал на деле, что может возить более 3,3 тонны тяжести со скоростью от 13-16 км/ч».

4. «Изобретение Никонова, именовавшегося «потаённым» и впервые построенного по указу Петра I, могло стать весьма полезным инструментом, да и для политических целей – чтобы устрашать противника. Царь предоставил плотнику весьма широкие полномочия для создания ещё не полноценного боевого судна, но для прототипа».

5. «Изобретатель бесконечных рельсов, делал на днях пробу своей платформы. Платформа с самодвижущимися рельсами, гружёная 8,2 тоннами, на днях проезжала несколько раз по улицам нашего города, вызвав всеобщее одобрение. Честь и заслуженная слава Блинову, механику-самоучке из крестьян Вольского уезда».

6. «Наступил исторический момент. Сикорский расположился на пилотском месте, запустил двигатель и начал потихоньку прибавлять обороты. Но винты не крутились. Ремень скользил по шкивам и не передавал крутящий момент. Когда дефект с помощью прижимного ролика был устранен и винты смогли вращаться».

Картинка	Номера текстов	Назовите современным словом данное изобретение
А	5	трактор
Б	2	самолёт
В	4	Трёхколёсная тележка
Г	3	Паровоз
Д	6	вертолёт
Е	1	танк


12. Перед Вами фоторепродукции российской повседневности XX века. Их объединяет общая тема – настроения людей. Назовите год и событие, расположив их в хронологической последовательности. Ответ оформить в таблице (7 баллов)




А



Б



В



Г



Д



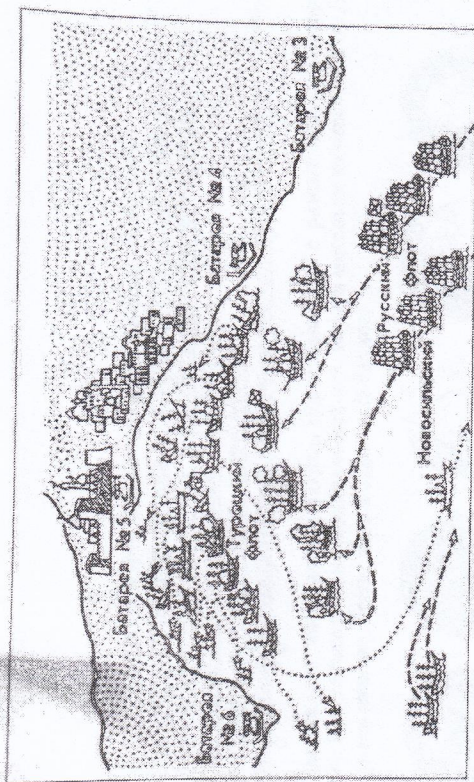
Е

Последовательность	Буква	Год	Событие
1	В	1913	300-летие династии Романовых
2	Е	1917	Февральская революция
3	Д	1938	Убийство участников эскадры Чухомцев
4	А	1945	Победа в Великой Отечественной войне
5	Г	1955	200-летие образования ИТЧ
6	Б	1961	День космонавтики

68

1

13. Перед Вами карта известного рейда Русского флота к вражескому побережью, ставшего последней крупной битвой парусных флотов. Прочитайте и ответьте на вопросы. Ответ впишите в выделенные строки (12 баллов)



- а) Какое название получила битва, изображённая на карте?
Сражение при Черной реке
- б) Назовите дату (с точностью до половины месяца) этого события:
середина 1853 года
- в) В рамках какой войны состоялось это сражение?
Крымская война 1853-1856
- г) Укажите № 4 и фамилию русского военачальника — Козлов, имеющего прямое отношение к событию, изображенному на карте:




- д) Укажите № 4 и имя русского императора — Александр II, закончившего войну.



- е) Назовите последствия войны, в конечном итоге, проигранной Россией?
1. Упущение права России иметь Черноморское военно-морское флот.
 2. Упущение всеми странами РФ своего национального права
 3. Упущение всех национальностей в стране
 4. Упущение в 1917 году государственного строя
 5. Упущение национальной, информационной, культурно-нравственной.

4

14. Мы удалили медалионы у награды, существовавших в разные периоды истории России. Восстановите их первоначальный вид, вернув медальон на «свое» место. Два медальона лишние. Ответ дать в таблице (6 баллов)



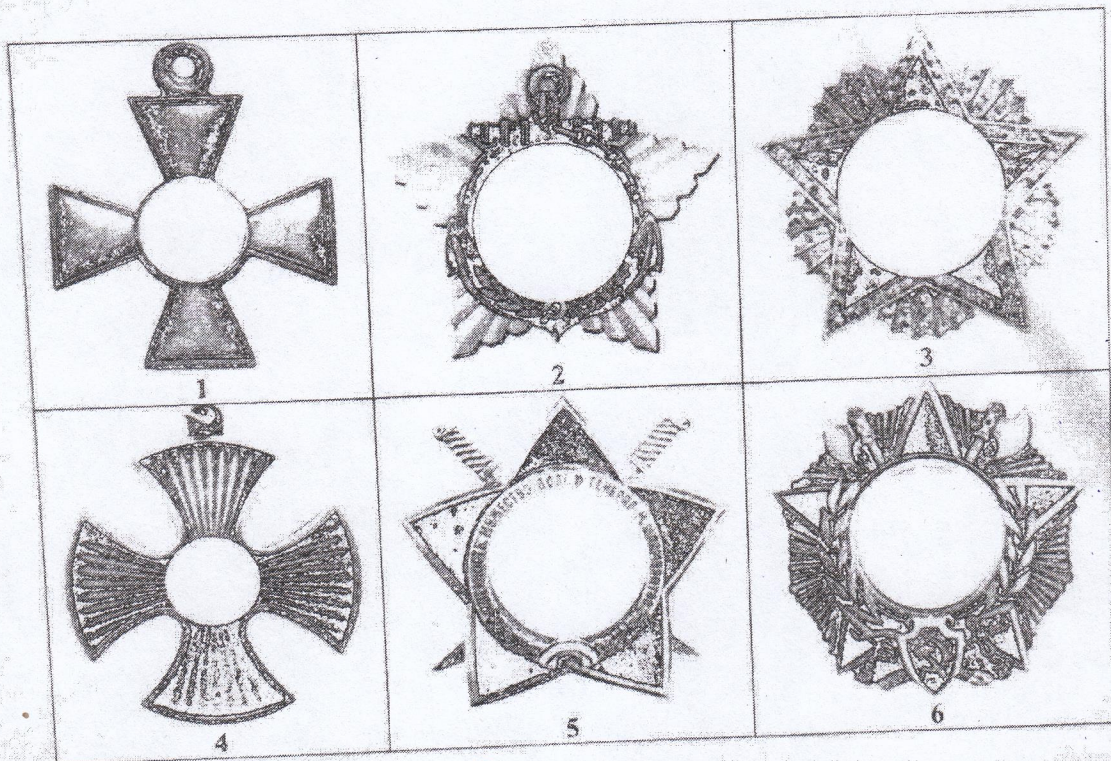
1	2	3	4	5	6
Е	Ж	Б	З	Г	В

68

е) Назовите последствия войны, в конечном итоге, проигранной Россией?

1. Уменьшение территории России и сепаратизм в некоторых частях империи
2. Упадок влияния России на международной арене
3. Присутствие союзников в Европе
4. Упущена в 1861 году крепостная реформа
5. Упущен шанс на реформу, что привело к революции 1917 года

14. Мы удалили медальоны у наград, существовавших в разные периоды истории России. Восстановите их первоначальный вид, вернув медальон на «свое» место. Два медальона лишние. Ответ дать в таблице (6 баллов)



1	2	3	4	5	6
Е	Ж	Б	З	Г	В



АДМИНИСТРАЦИЯ БОРИСОВСКОГО
РАЙОНА
УПРАВЛЕНИЕ ОБРАЗОВАНИЯ
АДМИНИСТРАЦИИ
БОРИСОВСКОГО РАЙОНА
Луначарского ул., 2, п. Борисовка
Белгородская область, 309340
т/факс: (47246)5-05-31
e-mail: uo-borisovka@bo.belregion.ru,
<http://bor-rono.ru>

Лето №5.

Эта чистота ю, Кантаниной
даки Жукина. В его время
Игорь Гракс, шоды ю
Вутовичков изотрида
Евсеевна Юркова в 1773-1775.

Этот крупный человек

против дворянско-крепостнической системы в России.
Жукиной восстание посчитали недовольства
простого народа, несправедливости и несправедливого
положения. Так же восстание купцов
дворянства во время восстания с Турцией. Восставшие
потом освободились от гос-во принуждения,
повиновения и податей. Виталий Юрков
и ряд гос-во чиновники были похоронены в Москве
Бессонной ночью 10 января 1775, а именно
выступили против правды и до середины
1775 года.

Как бы подобно отрянутой кассе с торжественной
суть, её кассе и кассе. Вместо её кассе
юрдены, ведь кассе гос-во перенесло оченный
успехи и неудачи. Виталий Юрков, но всё равно устал
на кассе. Виталий Юрков в своей отрянутой.

8